

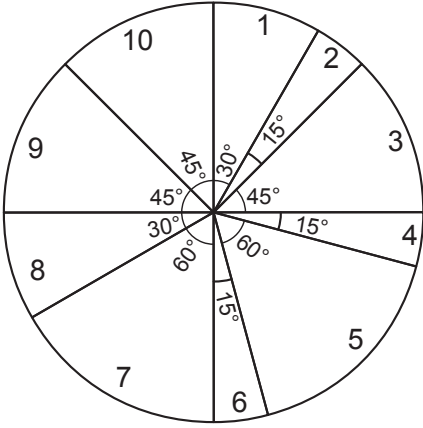


2019

1

Bir televizyon kanalında 24 saat boyunca yayımlanacak programların sürelerine göre dağılımı ve yayın sırası aşağıdaki daire grafiğinde gösterilmiştir. Bu daire grafiğine uygun 24 saatlik yayın akışını gösteren aşağıdaki gibi bir tablo oluşturulacaktır.

Grafik: Yayımlanacak Programların Sürelere Göre Dağılımı



Tablo: 24 Saatlik Yayın Akışı

Sıra	Program Adı	Yayın Saati
1	El Emeği Göz Nuru	08.00 - ...
2	Başarının Sırrı	... - ...
3	Anadolu'da Lezzet Durakları	... - ...
4	Piramitlerin Gizemi	... - ...
5	Çanakkale Destanı	... - ...
6	Ata Sporlarımız	... - ...
7	Doğanın Gücü	... - ...
8	Dünya Atletizm Şampiyonası	... - ...
9	Bilgisayar Dünyası	... - ...
10	Notaların Dili	... - ...

Verilenlere göre "Ata Sporlarımız" adlı programın yayın saati aşağıdakilerden hangisidir?

- A) 19.00 - 20.00
C) 20.00 - 21.00

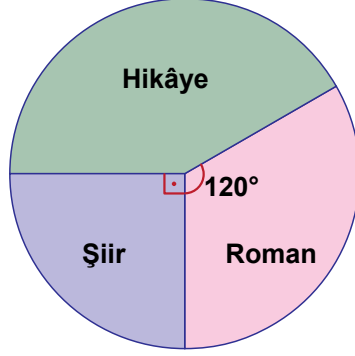
- B) 01.00 - 02.00
D) 02.00 - 03.00

2020

2

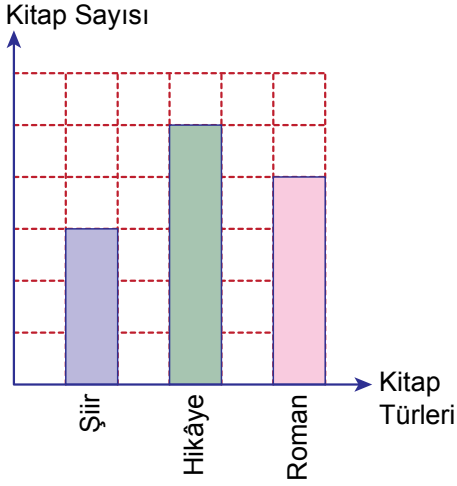
Ayşe'nin bir yılda okuduğu kitapların türlerine göre dağılımı aşağıdaki daire grafiği ile gösterilmiştir.

Grafik: Ayşe'nin Okuduğu Kitapların Türlerinin Dağılımı

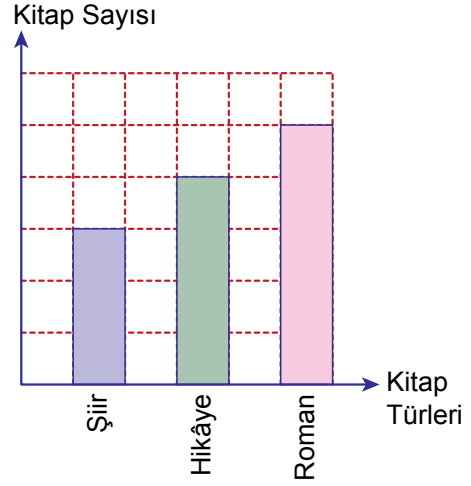


Kareli zeminde verilen sütun grafiklerinden hangisi yukarıdaki daire grafiğine uygun oluşturulmuştur?

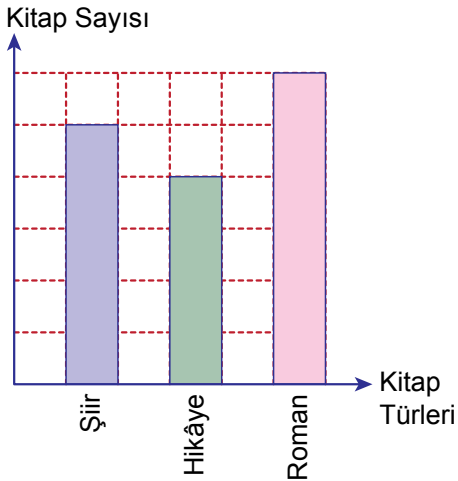
A) **Grafik:** Ayşe'nin Okuduğu Kitaplar



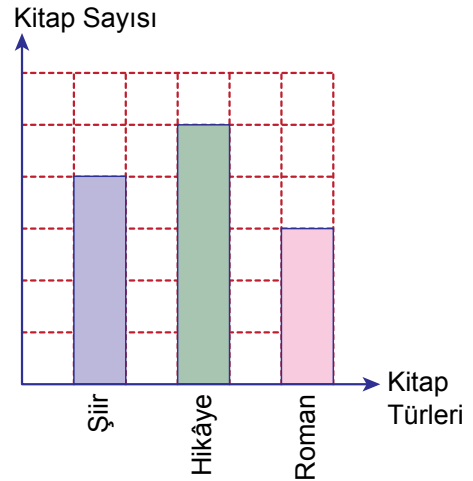
B) **Grafik:** Ayşe'nin Okuduğu Kitaplar



C) **Grafik:** Ayşe'nin Okuduğu Kitaplar

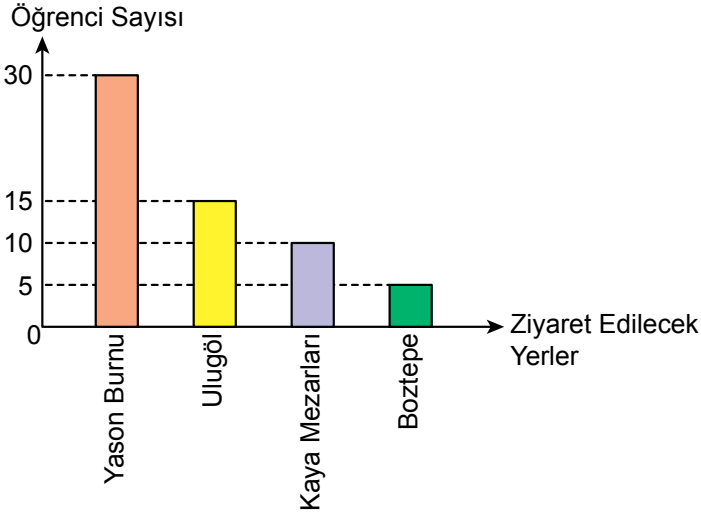


D) **Grafik:** Ayşe'nin Okuduğu Kitaplar

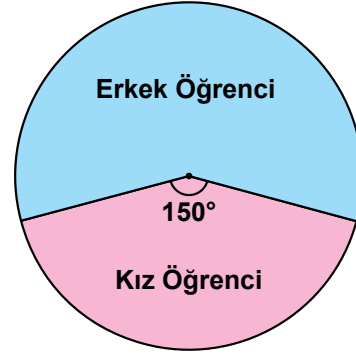


Bir okulun Ordu iline düzenleyeceği gezide ziyaret edilecek yerlerle ilgili yapılan anket çalışmasında her bir öğrenci ziyaret edilebilecek yerlerle ilgili yalnız bir tercihte bulunmuştur. Bu anketin sonuçları sütun grafiği ile ankete katılan kız ve erkek öğrencilerin sayılarının dağılımı daire grafiği ile aşağıda gösterilmiştir.

Grafik: Ziyaret Etmek İstedikleri Yerlere Göre Öğrenci Sayıları

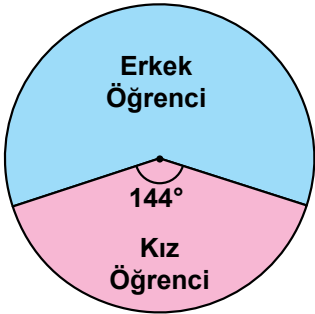


Grafik: Ankete Katılan Kız ve Erkek Öğrencilerin Sayılarının Dağılımı

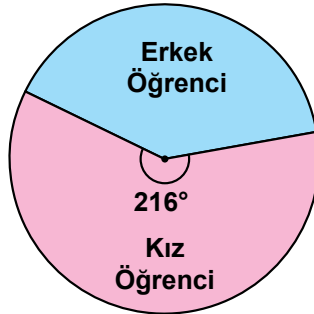


Ankete katılan kız ve erkek öğrencilerin sayılarının ziyaret etmek istedikleri yere göre dağılımları aşağıdaki daire grafiklerinde gösterilmiştir.


Grafik: Yason Burnu'na Gitmek İsteyen Kız ve Erkek Öğrencilerin Dağılımı



Grafik: Ulugöl'e Gitmek İsteyen Kız ve Erkek Öğrencilerin Dağılımı



Grafik: Kaya Mezarları'na Gitmek İsteyen Kız ve Erkek Öğrencilerin Dağılımı



Yukarıda verilenlere göre Boztepe'yi ziyaret etmek isteyen erkek öğrencilerin sayısı kaçtır?

A) 1

B) 2

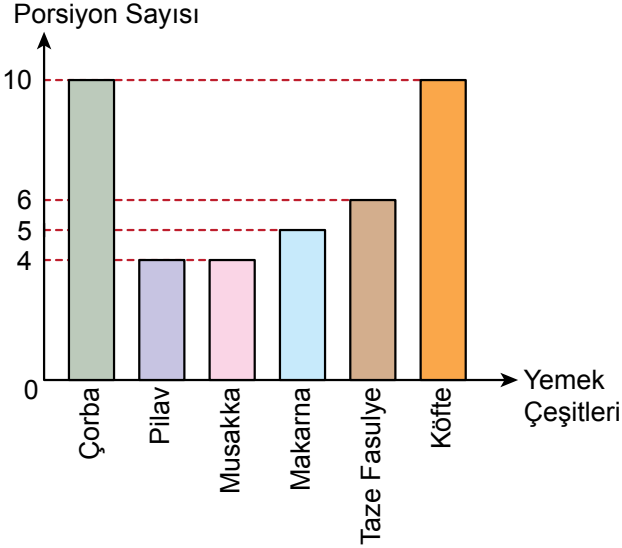
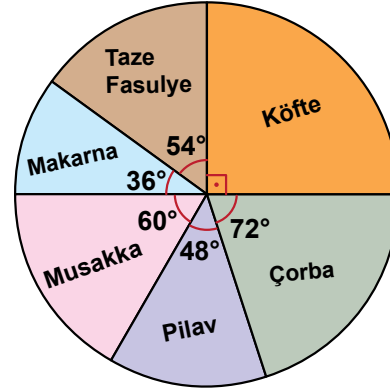
C) 3

D) 4

2020

4

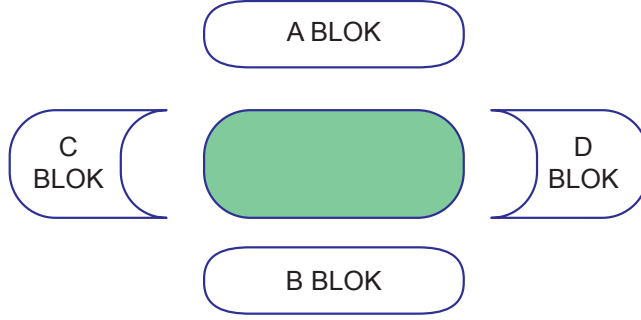
Bir lokantada hazırlanan yemek çeşitleri ve porsiyon sayıları sütun grafiği ile bu yemekler için kullanılan toplam 60 g tuzun yemek çeşitlerine göre dağılımı daire grafiği ile aşağıda gösterilmiştir. Bir çeşit yemeğin her porsiyonunda eşit miktarda tuz bulunmaktadır.

Grafik: Yemek Çeşitleri ve Porsiyon Sayıları**Grafik:** 60 g Tuzun Yemek Çeşitlerine Göre Dağılımı

Bu lokantada üç farklı yemekten birer porsiyon yiyen bir müşteri toplam 5 g tuz tüketmiştir.

Buna göre bu müşterinin yediği yemekler aşağıdakilerden hangisidir?

- A) Çorba – Pilav – Musakka
- B) Pilav – Musakka – Köfte
- C) Çorba – Musakka – Makarna
- D) Pilav – Taze Fasulye – Köfte

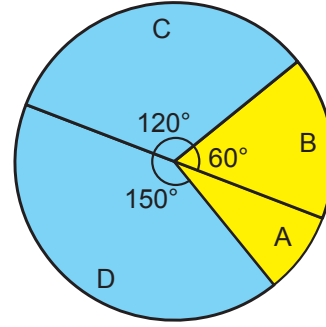


Yukarıda oturma planı verilen stadyumda oynanacak bir maç için satışa çıkarılan biletlerin %80'i satılmıştır. Biletlerin bloklara göre ücretlerini gösteren tablo ve satılmayan biletlerin sayısının bloklara göre dağılımını gösteren daire grafiği aşağıda verilmiştir.

Tablo: Bloklara Göre Bilet Ücretleri

Bloklar	1 Adet Bilet Ücreti (TL)
A	20
B	20
C	10
D	10

Grafik: Satılmayan Biletlerin Sayısının Bloklara Göre Dağılımı



Satılmayan biletlerin toplam ücreti 15 000 TL olduğuna göre bu maç için satışa çıkarılan bilet sayısı kaçtır?

A) 5000

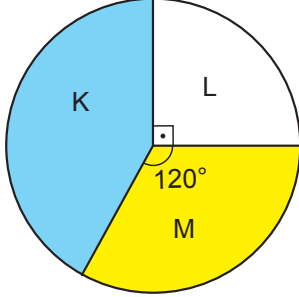
B) 6000

C) 7200

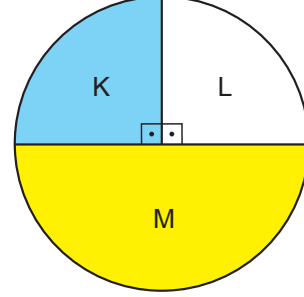
D) 8400

Bir elektronik eşya mağazasında 2019 ve 2020 yıllarında satılan K, L ve M marka televizyon sayılarının dağılımı, aşağıdaki daire grafiklerinde gösterilmiştir.

Grafik 1: 2019 Yılında Satılan Televizyonların Dağılımı



Grafik 2: 2020 Yılında Satılan Televizyonların Dağılımı



Bu mağazada 2020 yılında satılan L marka televizyon sayısı 2019 yılına göre 25 azalırken M marka televizyon sayısı 40 artmıştır.

Buna göre 2019 yılında satılan K marka televizyon sayısı kaçtır?

A) 250

B) 240

C) 225

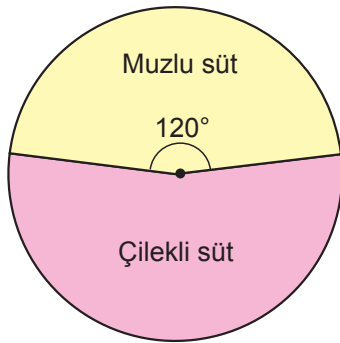
D) 210

Bir süt fabrikasında muz aroması ile muzlu süt, çilek aroması ile çilekli süt yapılmaktadır. Elde edilen meyveli sütler özdeş kutulara boşluk kalmayacak biçimde doldurulmaktadır.

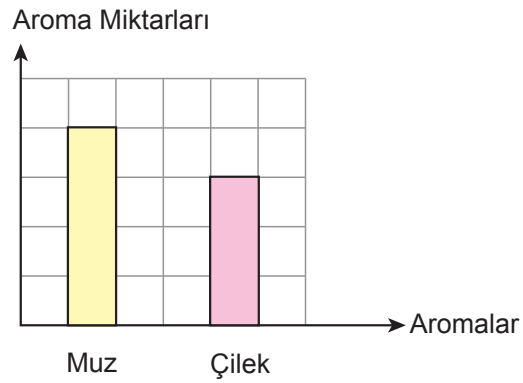


Bir günde üretilen muzlu süt ve çilekli süt miktarı daire grafiğinde ve bu meyveli sütlerde kullanılan aromaların toplam miktarı kareli zeminde verilen sütun grafiğinde aşağıda gösterilmiştir.

Grafik: Muzlu ve Çilekli Süt Miktarları



Grafik: Meyveli Sütlerdeki Toplam Aroma Miktarları



Buna göre, bir kutu muzlu sütteki muz aromasının, bir kutu çilekli sütteki çilek aromasına oranı kaçtır?

A) $\frac{3}{8}$

B) $\frac{3}{4}$

C) $\frac{4}{3}$

D) $\frac{8}{3}$

