

2018

1

21 000 m² lik bir arsa ortaklar arasında paylaşılacaktır. Paylaşım için arsanın tamamı 250 m², 500 m² ve 1000 m² lik bölümlere ayrılıyor. Toplam bölüm sayısı ortakların sayısına eşittir. Her bir bölüm numaralandırılıyor ve bu numaralar özdeş kartların üzerine yazılarak boş bir torbaya atılıyor. Arsanın ortakları arasında çekilecek kura ile bu bölümlerin sahipleri belirlenecektir.

Bu kurada torbadan çekilecek ilk kartın üzerinde yazan numaranın; alanı 250 m², 500 m² ve 1000 m² olan bölümlerden birine ait olma olasılıkları eşit olduğuna göre bu arsanın kaç ortağı vardır?

- A) 24 B) 36 C) 48 D) 60

2019

2

a, b, c, d birer gerçekte sayı ve $b \geq 0, d \geq 0$ olmak üzere

$$a\sqrt{b} \cdot c\sqrt{d} = (a \cdot c)\sqrt{b \cdot d}$$

$$a\sqrt{b} = \sqrt{a^2 b} \text{ dir.}$$

Tablo 1

$\sqrt{12}$	$\sqrt{20}$
$\sqrt{9}$	A

Tablo 2

$\sqrt{27}$	$\sqrt{3}$
$\sqrt{2}$	$\sqrt{28}$

Tablo 1'de verilen ifadelerin her biri Tablo 2'de verilen ifadelerin her biri ile birer kez çarpılıyor. Bu şekilde elde edilen sayıların her biri, bir karta bir sayı gelecek şekilde özdeş kartlara yazılarak boş bir torbaya atılıyor.

Torbadan rastgele çekilen bir kartın üzerinde yazan sayının doğal sayı olma olasılığının $\frac{1}{8}$ olması için A yerine aşağıdakilerden hangisi yazılmalıdır?

- A) $\sqrt{2}$ B) $\sqrt{3}$ C) $\sqrt{5}$ D) $\sqrt{7}$

2019

3

$$\text{Bir olayın olma olasılığı} = \frac{\text{İstenilen olası durumların sayısı}}{\text{Tüm olası durumların sayısı}}$$

Renkleri dışında özdeş olan toplardan 4'ü kırmızı, geri kalanı beyazdır. Bu topların tamamı aşağıdaki boş A, B ve C torbalarına dağıtılıyor.



A



B



C

Bu torbaların her birinden rastgele çekilen bir topun kırmızı olma olasılığı birbirine eşittir.

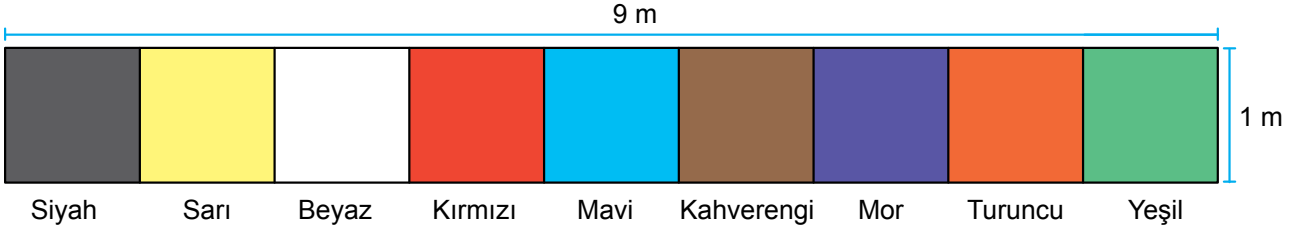
Buna göre başlangıçtaki beyaz top sayısı aşağıdakilerden hangisi olamaz?

- A) 80 B) 82 C) 88 D) 92

2020

4

$$\text{Bir olayın olma olasılığı} = \frac{\text{İstenilen olası durumların sayısı}}{\text{Tüm olası durumların sayısı}}$$



Kenarlarının uzunlukları 1 m ve 9 m olan dikdörtgen biçimindeki bir halının ön yüzü, şekildeki gibi farklı renklere boyanmıştır. Bu renklerin her birinin kapladığı karesel bölgenin alanı birbirine eşittir.

Bu halı, parçalarda aynı renk olmayacak şekilde iki parçaya bölünecektir.

Buna göre bu parçalardan birinin boyalı yüzünün alanının, diğerinin boyalı yüzünün alanının 2 katı olması olasılığı kaçtır?

A) $\frac{1}{3}$

B) $\frac{1}{4}$

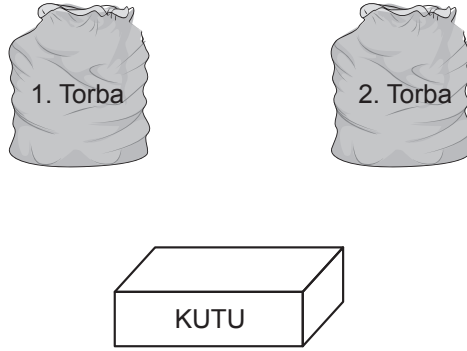
C) $\frac{1}{8}$

D) $\frac{1}{9}$

2020

5

$$\text{Bir olayın olma olasılığı} = \frac{\text{İstenilen olası durumların sayısı}}{\text{Tüm olası durumların sayısı}}$$



İçinde kırmızı veya sarı renkli 5 topun bulunduğu 1. torbadan rastgele çekilen bir topun kırmızı olma olasılığı daha fazladır. Ayrıca mavi veya sarı renkli 7 topun bulunduğu 2. torbadan rastgele çekilen bir topun sarı olma olasılığı daha azdır. 1. ve 2. torbadaki topların tamamı boş bir kutuya atılıp karıştırılıyor.

Topların tamamı renkleri dışında özdeş olduğuna göre bu kutudan rastgele çekilen bir topun sarı olma olasılığı en fazla kaçtır?

A) $\frac{1}{6}$

B) $\frac{1}{4}$

C) $\frac{5}{12}$

D) $\frac{7}{12}$



2020

6

$$\text{Bir olayın olma olasılığı} = \frac{\text{İstenilen olası durumların sayısı}}{\text{Tüm olası durumların sayısı}}$$

Aşağıdaki tabloda • (nokta) ve – (çizgi) karakterleri kullanılarak tanımlanmış rakamlar verilmiştir.

1	• – – – –	6	– • • • •
2	• • – – –	7	– – • • •
3	• • • – –	8	– – – • •
4	• • • • –	9	– – – – •
5	• • • • •	0	– – – – –

Bu rakamlara karşılık gelen karakterlerle oluşturulan iki basamaklı doğal sayıların tamamı aşağıdaki gibi özdeş kartlara yazılıp boş bir torbaya atılmıştır.

Örneğin;

10	→	• – – – – – – – –
11	→	• – – – – • – – – –
12	→	• – – – – • • – – – –
		⋮

Bu torbadan rastgele yapılan bir çekilişte üzerindeki • (nokta) sayısı 5 olan kartın çekilme olasılığı kaçtır?

A) $\frac{19}{90}$

B) $\frac{1}{5}$

C) $\frac{17}{90}$

D) $\frac{1}{6}$



2021

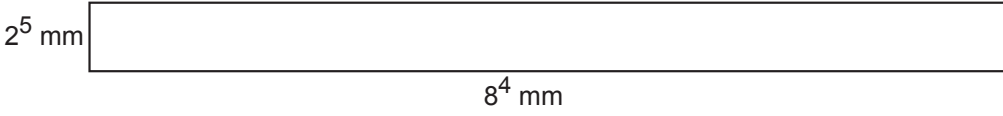
7

$a \neq 0$ ve m, n tam sayılar olmak üzere

$$\frac{a^m}{a^n} = a^{m-n} \text{ ve } (a^n)^m = a^{n \cdot m} \text{ dir.}$$

$$\text{Bir olayın olma olasılığı} = \frac{\text{İstenilen olası durumların sayısı}}{\text{Tüm olası durumların sayısı}}$$

Aşağıda kenarlarının uzunlukları 2^5 mm ve 8^4 mm olan dikdörtgen şeklinde bir karton verilmiştir.



Bu karton, kenarlarının uzunluğu 2^5 mm olan kare şeklindeki eş parçalara aşağıdaki gibi ayrılarak sırasıyla sarı, kırmızı, mavi, yeşil ve turuncu renklere boyanıyor. Her bir kare şeklindeki gibi kesilerek boş bir torbaya atılıyor.



Bu torbadan rastgele çekilen bir karenin kırmızı kare olma olasılığı kaçtır?

A) $\frac{25}{128}$

B) $\frac{1}{5}$

C) $\frac{13}{64}$

D) $\frac{7}{32}$



2013													
NİSAN							MAYIS						
P	S	Ç	P	C	C	P	P	S	Ç	P	C	C	P
1	2	3	4	5	6	7			1	2	3	4	5
8	9	10	11	12	13	14	6	7	8	9	10	11	12
15	16	17	18	19	20	21	13	14	15	16	17	18	19
22	23	24	25	26	27	28	20	21	22	23	24	25	26
29	30						27	28	29	30	31		

Öğrenci sayısı 20 olan bir sınıftaki her bir öğrencinin doğum tarihi birbirinden farklıdır. Bu sınıfın öğrenci listesi, öğrencilerin doğum tarihlerine göre büyükten küçüğe doğru sıralanarak oluşturulmuştur. Listenin ilk sırasındaki öğrencinin doğum tarihi 18 Nisan 2013, son sırasındaki öğrencinin doğum tarihi 24 Mayıs 2013 olmuştur.

Bu listeden rastgele seçilen bir öğrencinin doğum tarihinin nisan ayında olma olasılığı, mayıs ayında olma olasılığından daha fazladır.

Buna göre, doğum tarihi 25 Nisan 2013'ten önce olan en az kaç öğrenci vardır?

- A) 3 B) 4 C) 5 D) 6

