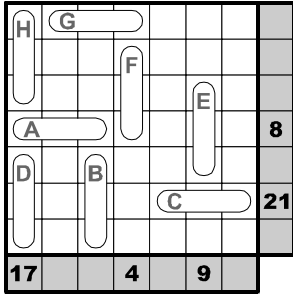
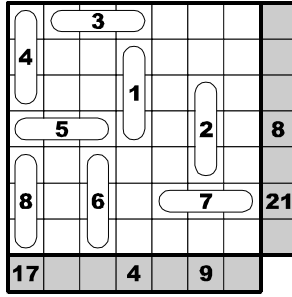


Kapsül

(1-8)



Örnek

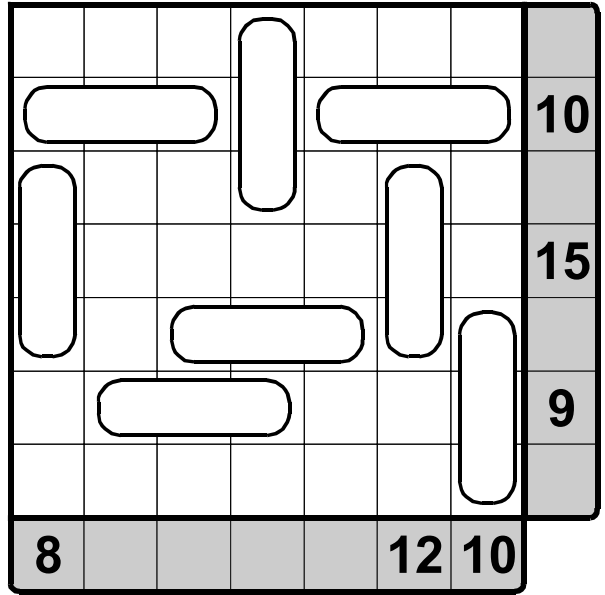


Diyagrama 3 tane hücrenin üzerinde yer alan yatay ya da dikey olarak kapsüller yerleştirilmiştir. Bu kapsüllerin her birinin içine 1'den n'e (örnek için 1-8) rakamları tam olarak bir kez yerleştirin. Diyagramın dışındaki sayılar o satır ya da sütunda yer alan kapsüller içindeki rakamların toplamını vermektedir. Örnekteki 8 toplamı 5,1 ve 2 rakamlarının toplamıdır.

Cevap Anahtarı: Kapsüllerin içine yerleşen rakamları kapsüllerin harflerini dikkate alarak yazın. Örnek için cevap şöyle olurdu:

A	B	C	D	E	F	G	H
5	6	7	8	2	1	3	4

(1-8)



(1-9)

