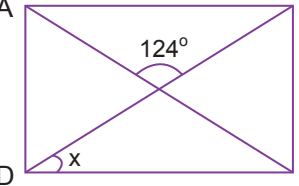
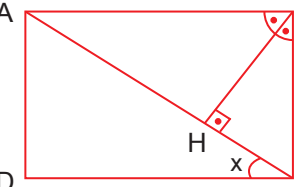
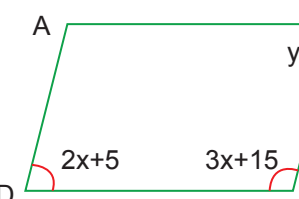
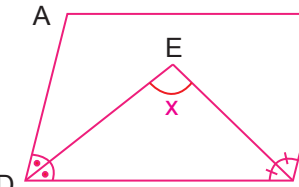
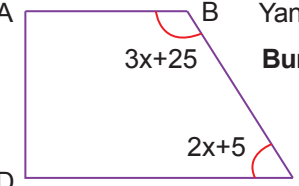


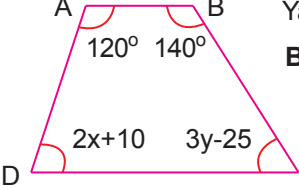
1.  B Yandaki dikdörtgenin köşegenleri verilmiştir.  
Buna göre  $x$  kaç derecedir?  
A) 56 B) 48  
C) 36 D) 28

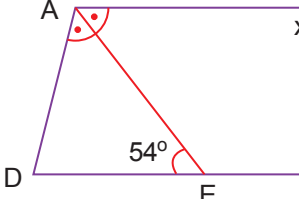
2.  B Yandaki dikdörtgende [BD] açıortay ve [BH]  $\perp$  [AC] dir.  
Buna göre  $x$  kaç derecedir?  
A) 50 B) 45  
C) 40 D) 35

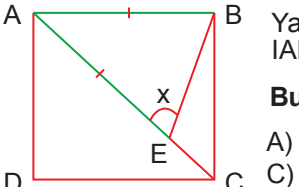
3.  B Yandaki şekil bir paralelkenardır.  
Buna göre  $y$  kaç derecedir?  
A) 32 B) 64  
C) 69 D) 72

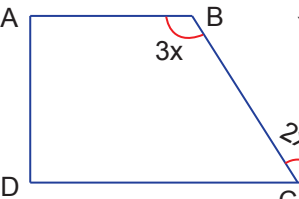
4.  B Yandaki paralelkenarda [DE] ve [CE] açıortaydır.  
Buna göre  $x$  kaç derecedir?  
A) 90 B) 85  
C) 80 D) 75

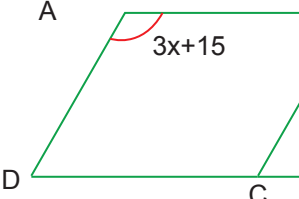
5.  B Yandaki şekil bir dik yamuktur.  
Buna göre  $s(\widehat{BCD})$  kaç derecedir?  
A) 35 B) 45  
C) 55 D) 65

6.  B Yandaki şekil bir yamuktur.  
Buna göre  $x+y$  kaç derecedir?  
A) 35 B) 40  
C) 45 D) 50

7.  B Yandaki paralelkenarda [AE] açıortaydır.  
Buna göre  $x$  kaç derecedir?  
A) 52 B) 62  
C) 72 D) 82

8.  B Yandaki karede [AC] köşegen ve  $|AE|=|BE|$  dir.  
Buna göre  $x$  kaç derecedir?  
A) 67,5 B) 65  
C) 62,5 D) 60

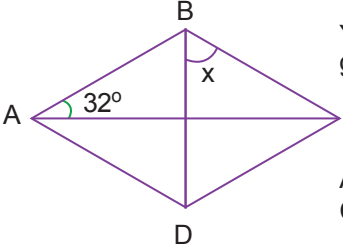
9.  B Yandaki şekil bir dik yamuktur.  
Buna göre  $s(\widehat{BCD})$  kaç derecedir?  
A) 35 B) 45  
C) 55 D) 65

10.  B Yandaki şekil bir paralelkenar ve eşkenar üçgen oluşmaktadır.  
Buna göre  $x$  kaç derecedir?  
A) 25 B) 30  
C) 35 D) 45

11. I. Karşılıklı kenarları paraleldir.  
II. Köşegenleri dik kesişir.  
III. Tüm kenarları eşit uzunluktadır.  
IV. İç açıları dar veya geniş açılıdır.

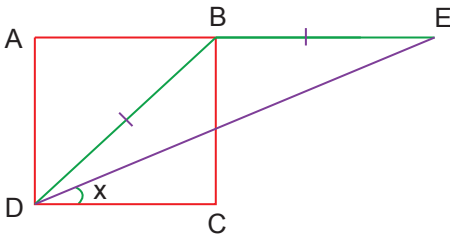
Yukarıda özelliklerinden bir kısmı verilen dörtgen aşağıdakilerden hangisidir?

- A) Kare  
B) Dikdörtgen  
C) Paralelkenar  
D) Eşkenar dörtgen

12.  Yandaki şekil bir eşkenar dörtgen, [AC] ve [BD] köşegendir. Buna göre x kaç derecedir?
- A) 58  
B) 64  
C) 72  
D) 116

13. Aşağıdaki dörtgenlerin hangisinde köşegenler eşit uzunlukta değildir?

- A) Kare  
B) Dikdörtgen  
C) Eşkenar dörtgen  
D) İkizkenar yamuk

14.  Yukarıdaki karede  $IBDI = BEI$  dir. Buna göre x kaç derecedir?

Yukarıdaki karede  $IBDI = BEI$  dir.

Buna göre x kaç derecedir?

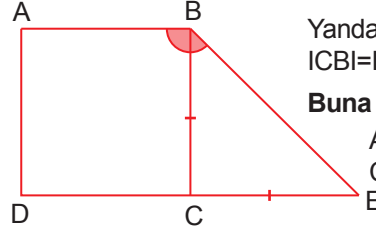
- A) 20,5  
B) 22,5  
C) 25  
D) 45

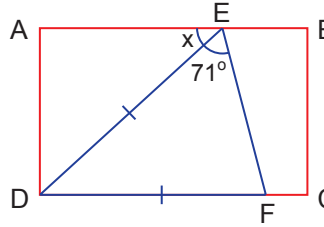
15. Aşağıdaki dörtgenlerin hangisinde köşegenler dik kesişir?

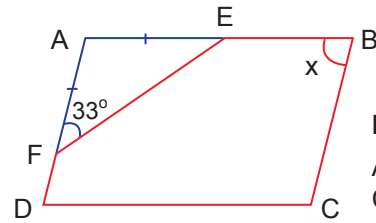
- A) Paralelkenar  
B) Dikdörtgen  
C) Yamuk  
D) Kare

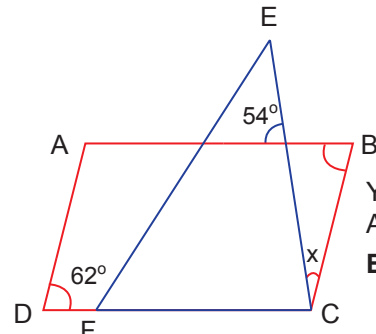
16. Aşağıdaki dörtgenlerin hangilerinde köşegenler açırtaydır?

- A) Kare, eşkenar dörtgen  
B) Dikdörtgen, kare  
C) Eşkenar dörtgen, yamuk  
D) Kare, paralelkenar

17.  Yandaki şekilde ABCD bir kare ve  $ICBI = ICEI$  dir. Buna göre  $s(\widehat{ABE})$  kaç derecedir?
- A) 125  
B) 135  
C) 145  
D) 155

18.  Yandaki dikdörtgende  $IDEI = IDFI$  dir. Buna göre x kaç derecedir?
- A) 38  
B) 42  
C) 45  
D) 48

19.  Yandaki paralelkenarda  $IAEI = IAFI$  dir. Buna göre x kaç derecedir?
- A) 94  
B) 104  
C) 114  
D) 124

20.  Yandaki şekilde EFC bir üçgen, ABCD bir paralelkenardır. Buna göre x kaç derecedir?
- A) 34  
B) 44  
C) 54  
D) 64

