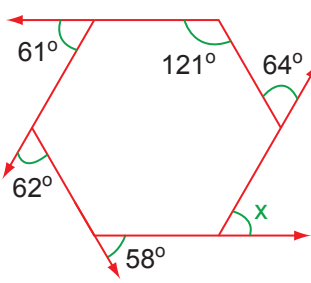

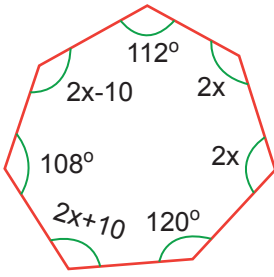
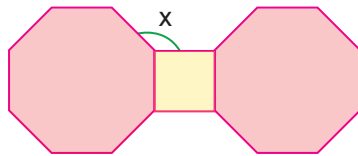
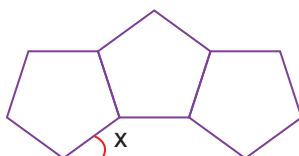


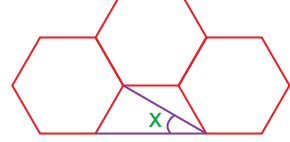
1.  *Bir dışbükey çokgenin dış açıların ölçüleri toplamı 360° dir.*
Buna göre yandaki altıgende x kaç derecedir?
- A) 56
B) 157
C) 58
D) 59

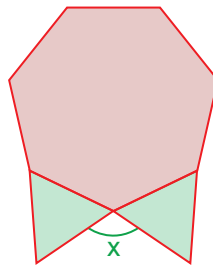
2.  *Yandaki şekildeki çokgenler düzgün çokgenlerdir.*
Buna göre x kaç derecedir?
- A) 108
B) 144
C) 196
D) 216

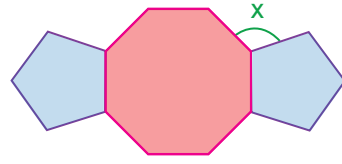
3.  *Yandaki yedigene göre x kaç derecedir?*
- A) 62,5
B) 65
C) 67,5
D) 70


4.  *Yukarıdaki şekil kare ve iki düzgün sekizgenden oluşmaktadır.*
Buna göre x kaç derecedir?
- A) 198
B) 210
C) 215
D) 225

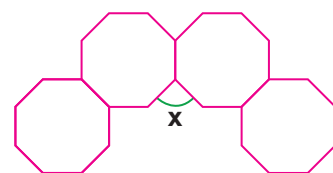
5.  *Yukarıdaki şekil üç tane düzgün beşgenden oluşmaktadır.*
Buna göre x kaç derecedir?
- A) 36
B) 72
C) 108
D) 144

6.  *Yukarıdaki şekil üç tane düzgün altıgenden oluşmaktadır.*
Buna göre x kaç derecedir?
- A) 120
B) 60
C) 30
D) 15

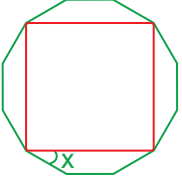
7.  *Yandaki şekil düzgün yedigen ile iki tane eşkenar üçgenden oluşmaktadır.*
Buna göre x yaklaşık kaç derecedir?
- A) 101,4
B) 111,4
C) 121,4
D) 131,4

8.  *Yukarıdaki şekildeki çokgenler düzgün çokgenlerdir.*
Buna göre x kaç derecedir?
- A) 135
B) 108
C) 112
D) 117

9.  *Yandaki şekildeki çokgenler düzgün çokgenlerdir.*
Buna göre x kaç derecedir?
- A) 144
B) 108
C) 72
D) 36

10.  *Yukarıdaki şekil dört tane düzgün altıgenden oluşmaktadır.*
Buna göre x kaç derecedir?
- A) 100
B) 90
C) 80
D) 70

11.

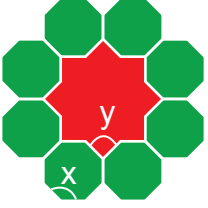


Yandaki şekil bir düzgün onikigen ile bu düzgün onikigenin içine kenarlara teğet olacak şekilde çizilen bir kareden oluşmaktadır.

Buna göre x kaç derecedir?

- A) 15 B) 20
C) 25 D) 30

12.




Yandaki şekildeki çokgenler düzgün çokgenlerdir.

Buna göre x-y kaç derecedir?

- A) 90 B) 75
C) 60 D) 45

13.

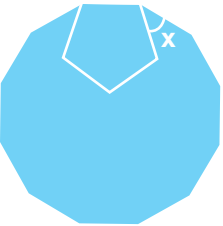


Yandaki şekil bir düzgün altıgendir.

Buna göre x kaç derecedir?

- A) 60 B) 90
C) 110 D) 120

14.

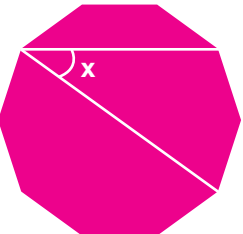


Yandaki şekildeki çokgenler düzgün çokgenlerdir.

Buna göre x kaç derecedir?

- A) 45 B) 42
C) 32 D) 22

15.

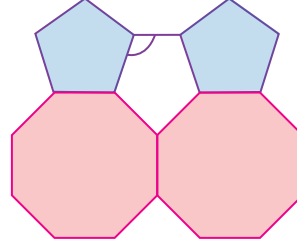


Yandaki şekil bir düzgün ongendir.

Buna göre x kaç derecedir?

- A) 72 B) 48
C) 36 D) 24

16.



Yandaki şekil iki düzgün beşgen ile iki düzgün sekizgenden oluşmaktadır.

Buna göre x kaç derecedir?

- A) 108 B) 120
C) 144 D) 216

17.

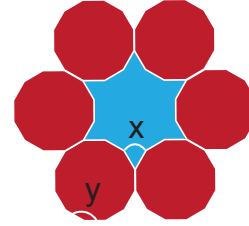


Yandaki şekil bir düzgün beşgendir.

Buna göre x kaç derecedir?

- A) 36 B) 48
C) 54 D) 72

18.

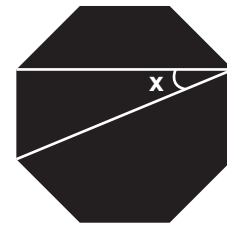


Yandaki şekildeki çokgenler düzgün çokgenlerdir.

Buna göre x+y kaç derecedir?

- A) 180 B) 190
C) 200 D) 210

19.

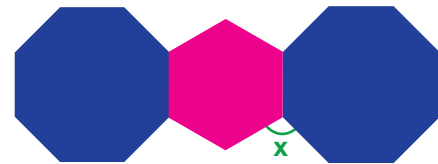


Yandaki şekil bir düzgün sekizgendir.

Buna göre x kaç derecedir?

- A) 20 B) 22,5
C) 25 D) 30

20.



Yandaki şekildeki çokgenler düzgün çokgenlerdir.

Buna göre x kaç derecedir?

- A) 95 B) 100
C) 105 D) 108

