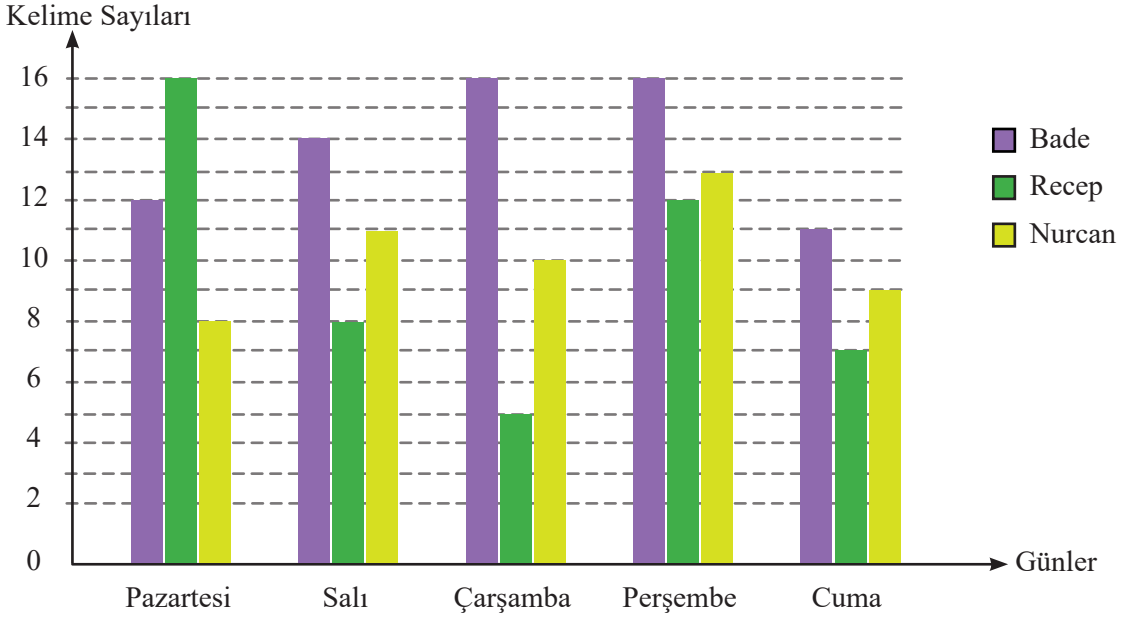


Bade, Recep ve Nurcan'ın İngilizce dersi için beş gün boyunca ezberledikleri kelimelerin sayısı aşağıdaki grafikte gösterilmektedir.

Grafik: İngilizce Dersi İçin Ezberlenen Kelime Sayıları

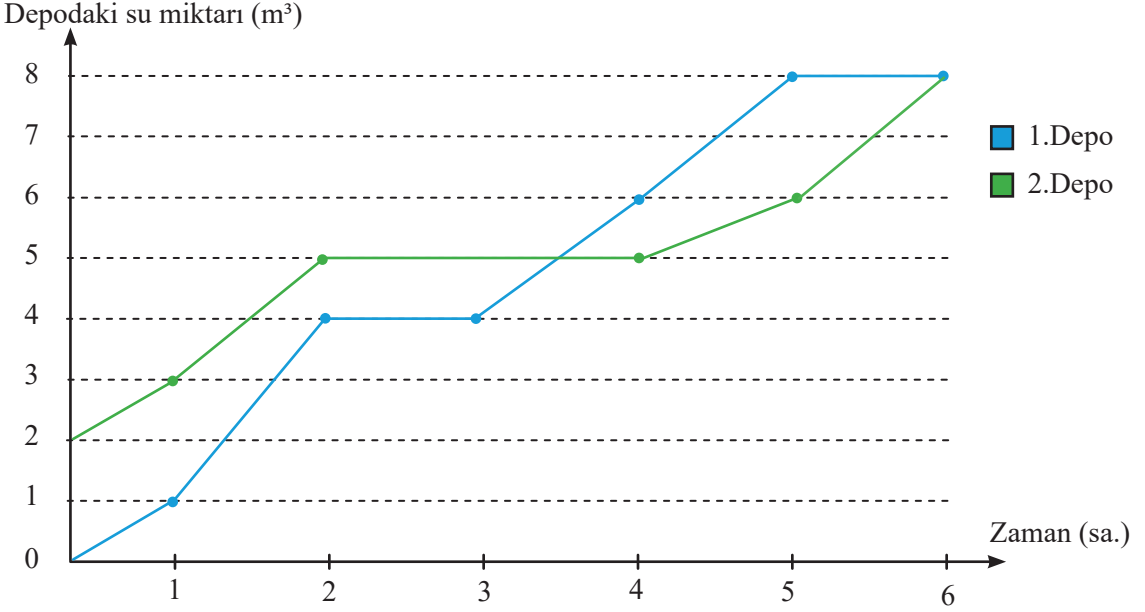


Aşağıda grafik ile ilgili verilen soruların başındaki boşluklara doğru ise ✓ yanlış ise ✗ işareti koyunuz.

- Bade beş günde toplam 69 kelime ezberlemiştir.
- Çarşamba günü 3 arkadaşın ezberlediği toplam kelime sayısı 32'dir.
- Recep'in salı günü ezberlediği kelime sayısı cuma günü ezberlediği kelime sayısından azdır.
- Nurcan en az kelimeyi pazartesi günü ezberlemiştir.
- Bir haftada en çok kelimeyi Bade ezberlemiştir.
- Perşembe günü en az kelimeyi Recep ezberlemiştir.
- Nurcan'ın bir haftada ezberlediği kelime sayısı Recep'in ezberlediği kelime sayısından 1 fazladır.
- En az kelime ezberlenen gün cuma günüdür.
- Pazartesi ve perşembe günü ezberlenen kelime sayılarının toplamı 5 gün boyunca ezberlenen kelime sayısının yarısıdır.

Yeşilbahçe Sitesi'nde su kesintilerinin olduğu zamanlarda kullanılmak üzere iki adet su deposu yapılmıştır. Bu su depolarının her ikisi de 8 m^3 su almakta ve depoları dolduran muslukluklar depo dolunca otomatik olarak durmaktadır. Aşağıdaki grafikte bu depolardaki su miktarının zamana göre değişimi gösterilmektedir.

Grafik: Zamana Bağlı Depodaki Su Miktarı



Yukarıda verilen grafiğe göre soruları cevaplayınız.



2. depoda başlangıçta kaç metreküp su vardır?



6 saat sonunda iki depodaki toplam su miktarı kaç metreküptür?



Depodaki su miktarları hangi saat ya da saat aralıklarında eşitlenmiştir?



5. saatte depolar arasındaki su miktarı farkı kaç metreküptür?



2. depoda hangi saatler arasında su miktarında değişiklik olmamıştır?



Hangi depoya akan su miktarı daha fazladır?

Aşağıdaki tabloda Atatürk Lisesinden mezun olan öğrencilerin yıllara göre üniversiteye yerleşen öğrenci sayısı ve yerleşemeyen öğrenci sayıları gösterilmektedir.

Tablo: Mezun Olan Öğrencilerin Üniversiteye Yerleşme Durumu

Yıllar	2017	2018	2019
Yerleştirilme Durumu			
Fakülte	54	42	48
Meslek Yüksek Okulu	18	24	30
Yerleşemeyen	18	6	10

1

Tabloya göre 2017, 2018 ve 2019 yıllarında mezun olan öğrencilerin üniversiteye yerleştirilme durumunu gösteren çizgi grafiğini çiziniz.

2

Tabloya göre 2017, 2018 ve 2019 yıllarında mezun olan öğrencilerin üniversiteye yerleştirilme durumunu gösteren sütun grafiğini çiziniz.

3

2017 yılında mezun olan öğrencilerin üniversiteye yerleştirilme durumunu gösteren daire grafiğini çiziniz.

4

Meslek yüksek okuluna yerleşen öğrencilerin sayısını gösteren daire grafiğini çiziniz.

LGS'ye hazırlanan Sıla, hafta sonu için ders çalışma süreleri ile ilgili bir planlama yapar. Cumartesi ve pazar günleri derslere ayracağı süreleri gösteren bir tablo oluşturur.


Tablo: Ders Çalışma Süreleri (dakika)

Dersler Günler	Türkçe	Matematik	Fen Bilgisi	İnkılap Tarihi ve Atatürkçülük	İngilizce	Din Kültürü ve Ahlak Bilgisi
Cumartesi	75	90	90	30	45	30
Pazar	60	75	75	15	30	15


Tabloda verilen bilgilere göre aşağıdaki soruları cevaplayınız.



Sıla'nın hafta sonu ders çalışma sürelerini gösteren sütun grafiğini çiziniz.



Pazar günü için planlanan ders çalışma sürelerini daire grafiğinde gösteriniz.



Hafta sonu Türkçe dersine ayrılan süreleri gösteren daire grafiğini çiziniz.

